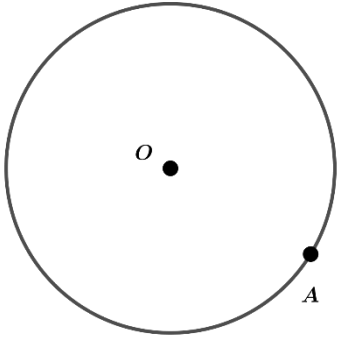
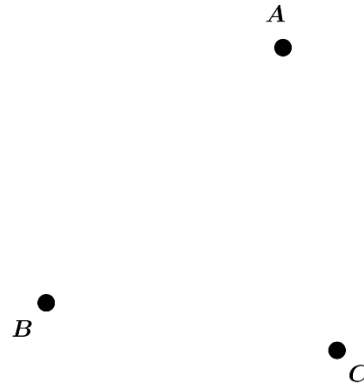


1 以下の図形を作図しなさい。

(1) 円  $O$  の点  $A$  を通る接線




(2) 3点  $A, B, C$  を通る円



(3) 線分  $AB$  を1辺とする正方形



(4) 長方形  $ABCD$  を  $A$  と  $C$  が重なるように折ったときの折り目



(5)  $\angle POA = 45^\circ$  となるように引いた半直線  $OP$

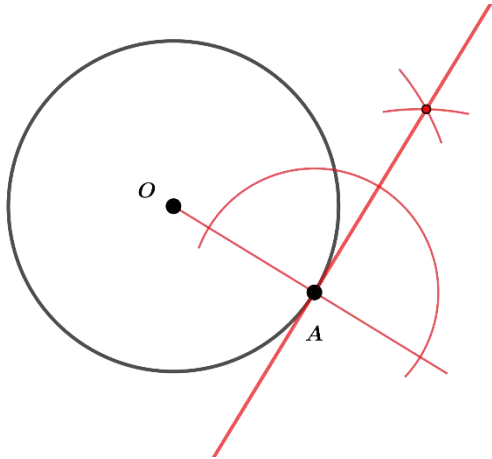


(6)  $\angle POA = 30^\circ$  となるように引いた半直線  $OP$

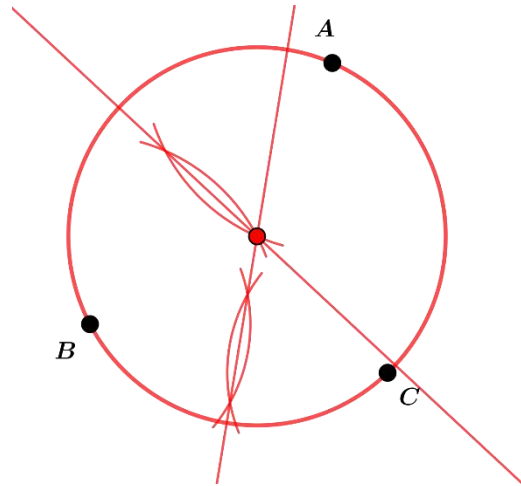


1 以下の図形を作図しなさい。

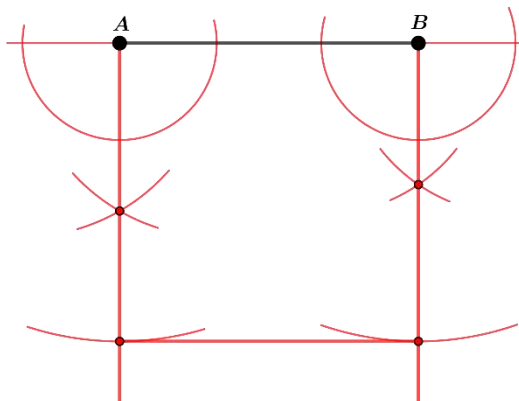
(1) 円Oの点Aを通る接線



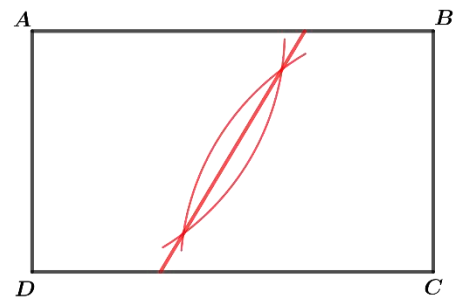
(2) 3点A, B, Cを通る円



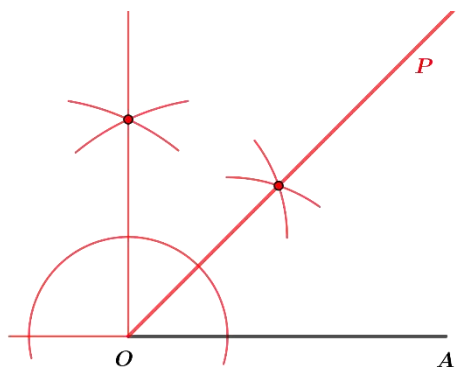
(3) 線分ABを1辺とする正方形



(4) 長方形ABCDをAとCが重なるように折ったときの折り目



(5)  $\angle POA = 45^\circ$  となるように引いた半直線 OP



(6)  $\angle POA = 30^\circ$  となるように引いた半直線 OP

